

Calcul mental: La table de multiplication de 2.

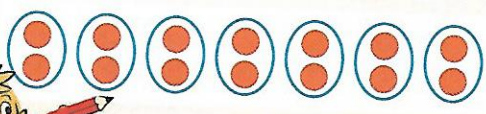
0 2 4 6 8 10 12 14 16 18

Je comprends

Dans l'armoire d'Ahmed, il y a 7 paires de chaussures.
Combien de chaussures y a-t-il en tout ?



1. Je choisis ma méthode et l'**opération** adaptée.
Pour trouver le nombre total de chaussures, je **multiplie** le nombre de paires par 2.



Une **paire**, c'est 2 chaussures.
Je m'aide d'un schéma.

2. Je **calcule** : $7 \times 2 = 14$

Vérifie sur le dessin.



3. Je **vérifie** :

$2 + 2 + 2 + 2 + 2 + 2 + 2 = 14$

ou

$7 + 7 = 14$

chaussures gauches ↑ ↑ chaussures droites

4. Je **réponds** :

En tout, il y a **14** chaussures dans l'armoire.

J'applique


Pour chaque problème, **souligne** la question en **rouge** et les données utiles en **bleu**. Puis **complète** pour résoudre.



1 Marie a cueilli 3 trèfles à 4 feuilles. **Combien de feuilles a-t-elle cueillies en tout ?**

● **Méthode** : Je multiplie le nombre de trèfles par 4.

● **Schéma** :



● **Calcul** : $3 \times 4 = 12$



● **Vérification** : $4 + 4 + 4 = 12$

● **Réponse** : Elle a cueilli 12 feuilles

2 **Combien de doigts y a-t-il en tout ?**

● **Méthode** : Je multiplie le nombre de mains par 5

● **Schéma** :



● **Calcul** : $4 \times 5 = 20$

● **Vérification** : $5 + 5 + 5 + 5 = 20$

● **Réponse** : Il y a 20 doigts en tout